

Contrôle de Mathématiques**Exercice 1 :**

Construire en vraie grandeur, les trois triangles suivants en plaçant, sur chaque figure, les indications données :

- Le triangle ABC tel que $AC = 4 \text{ cm}$, $A = 86^\circ$ et $C = 52^\circ$.
- Le triangle EFG tel que $F = 90^\circ$, $FG = 6 \text{ cm}$ et $EG = 7 \text{ cm}$.
- Le triangle MOT tel que $MO = 8 \text{ cm}$, $OT = 5 \text{ cm}$ et $O = 115^\circ$.

Pour le triangle EFG, recopier sur la feuille de contrôle et compléter la phrase suivante :

Le triangle EFG est en

Exercice 2 :

On veut construire le triangle ABC ; doit-on choisir les données de la question a), b) ou c) ?

- a) $AB = 7 \text{ cm}$, $AC = 3 \text{ cm}$ et $BC = 4 \text{ cm}$.
- b) $AB = 5 \text{ cm}$, $AC = 6 \text{ cm}$ et $BC = 3 \text{ cm}$.
- c) $AB = 2 \text{ cm}$, $AC = 5 \text{ cm}$ et $BC = 2 \text{ cm}$.

Expliquer le choix et construire le triangle en vraie grandeur en plaçant les indications puis mesurer B et donner sa valeur.

Exercice 3 :

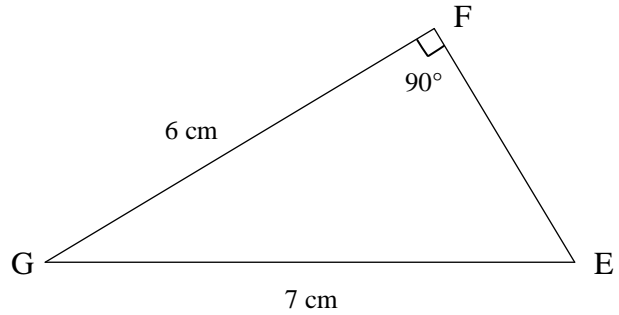
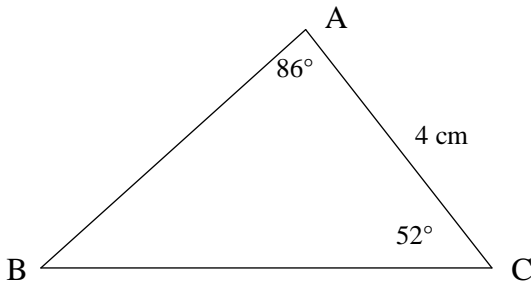
Construire, en expliquant comment on y arrive, le triangle TGV équilatéral ayant un périmètre de 9 cm.

Exercice 4 :

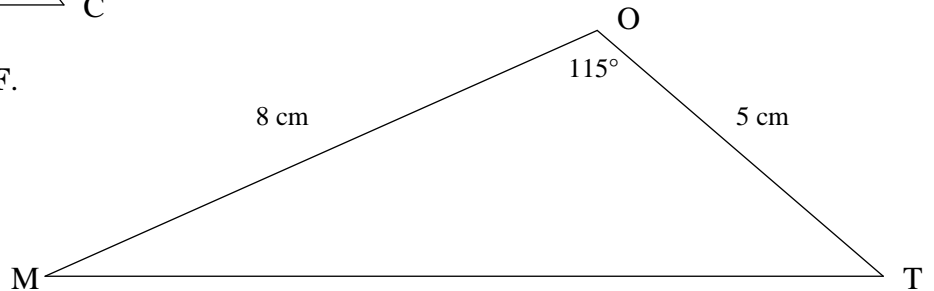
Alex et Alain disent avoir construit chacun un triangle isocèle ayant un côté de 6 cm, un autre de 4 cm. Sachant que ces deux triangles ne sont pas superposables construire chacun d'eux et calculer le périmètre de chacun.

Exercice 5 :

Dans un repère d'axes perpendiculaires, d'unité 1 cm, placer les points : A(-2 ; 3) B(4 ; 1) et C(-2 ; 7). Donner les coordonnées du centre H du cercle circonscrit au triangle ABC.

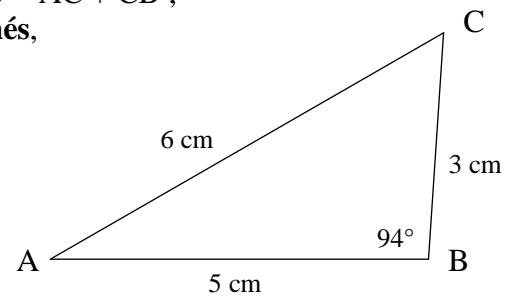
Contrôle de Mathématiques – CORRIGE – M. QUETExercice 1 : Constructions en vraie grandeur :

Le triangle EFG est **rectangle** en F.

Exercice 2 :

Pour la question a) nous avons $7 \text{ cm} = 3 \text{ cm} + 4 \text{ cm}$ c'est-à-dire $AB = AC + CB$;
Cette égalité triangulaire signifie que les points A, C et B sont **alignés**,
Et le point C est situé sur le segment [AB].

Pour la question c) nous avons $5 \text{ cm} > 2 \text{ cm} + 2 \text{ cm}$ c'est-à-dire
 $AC > AB + CB$: **l'inégalité triangulaire** n'est pas vérifiée ;
En effet dans un triangle, chaque côté est inférieur à la somme
des deux autres ; pas de construction possible avec ces données.

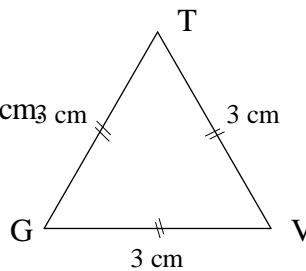


Pour b) nous avons $6 \text{ cm} < 3 \text{ cm} + 5 \text{ cm}$ c'est-à-dire $AC < AB + BC$

L'inégalité triangulaire est vérifiée ; on peut construire le triangle ABC, et on mesure : $B = 94^\circ$

Exercice 3 :

Le triangle **équilatéral** TGV a un périmètre de 9 cm
Tous ses côtés ont la **même mesure**.
Chacun de ses côtés mesure $9 \div 3 = 3 \text{ cm}$ →

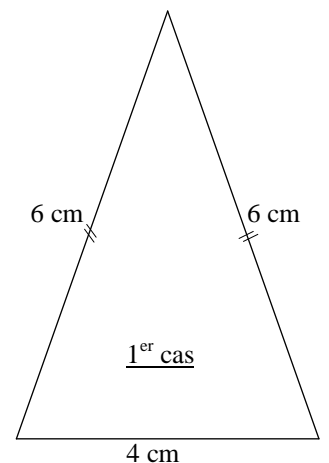
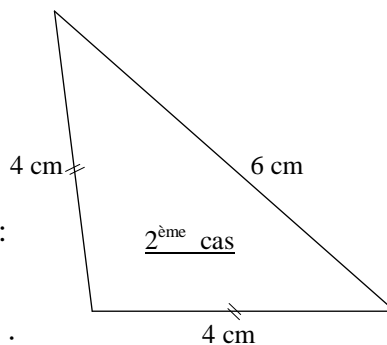
Exercice 4 :

Le triangle est isocèle mais on ne sait pas quels
sont les deux côtés qui ont la même mesure :

- soit deux côtés de 6 cm (1^{er} cas)
- soit deux côtés de 4 cm (2^{ème} cas)

1^{er} cas : 6 cm, 6 cm et 4 cm : le périmètre P vaut :
 $P = 6 \text{ cm} + 6 \text{ cm} + 4 \text{ cm} = 16 \text{ cm}$

2^{ème} cas : 4 cm, 4 cm et 6 cm : le périmètre P vaut :
 $P = 4 \text{ cm} + 4 \text{ cm} + 6 \text{ cm} = 14 \text{ cm}$



Exercice 5 :

Médiatrices :

On place les points A,B et C dans le repère.

On trace le triangle ABC, puis les **médiatrices**

des côtés [AC] et [AB] avec le codage.

Elles se croisent en H qui est le centre du

cercle circonscrit au triangle ABC.

Ses coordonnées sont **(2 ; 5)**.

